



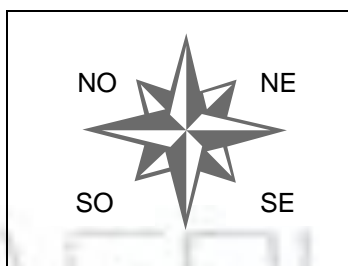
## FICHA DE ESTUDO

### História e Geografia de Portugal

5º ano

Lê com atenção e responde.

1. Completa a rosa-dos-ventos, escrevendo a designação dos seguintes pontos:



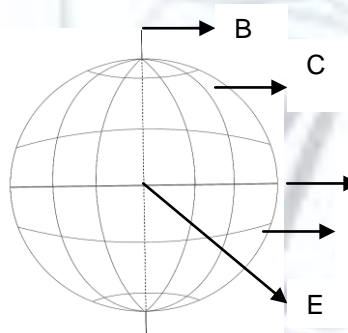
- NO - .....
- NE - .....
- SO - .....
- SE - .....

2. Indica que outros nomes dás aos seguintes pontos cardeais:

ESTE: .....

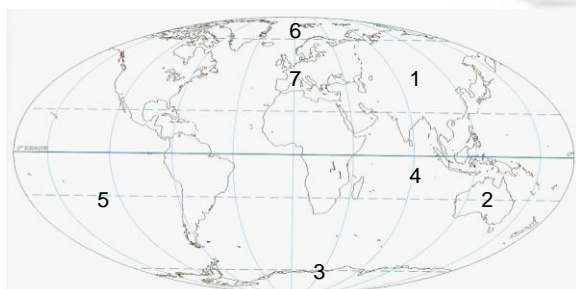
OESTE: .....

3. Identifica as coordenadas terrestres que correspondem às seguintes letras:



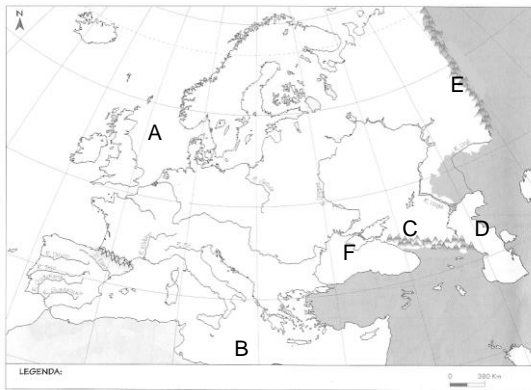
- A - .....
- B - .....
- C - .....
- D - .....
- E - .....

4. Completa o mapa mundo, escrevendo os continentes e oceanos que correspondem aos seguintes números:



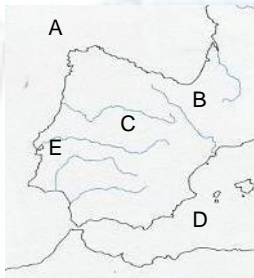
- 1 - .....
- 2 - .....
- 3 - .....
- 4 - .....
- 5 - .....
- 6 - .....
- 7 - .....

5. Identifica a que correspondem as letras no mapa da Europa:



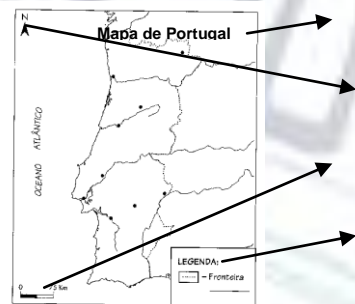
- A - .....
- B - .....
- C - .....
- D - .....
- E - .....
- F - .....

6. Identifica a que correspondem as letras no mapa da Península Ibérica:



- A - .....
- B - .....
- C - .....
- D - .....
- E - .....

7. Indica o nome dado aos seguintes elementos de um mapa:



- .....
- .....
- .....
- .....